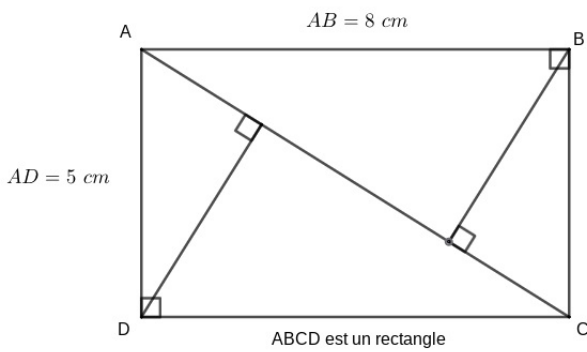
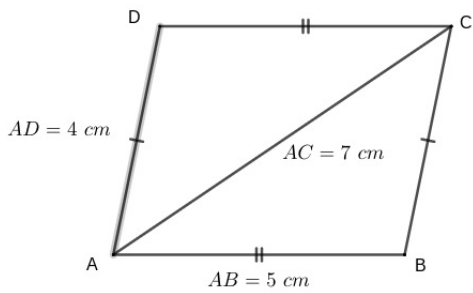
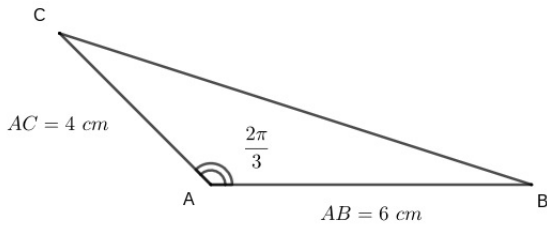


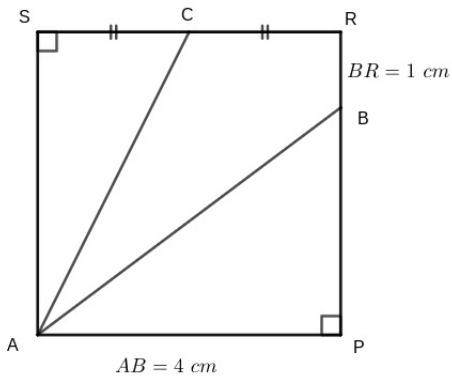
Dev n°7 - Produit Scalaire - 1ère spé maths

9 avril 2025 - 20 min

Exercice 1 (6,5 pts) : Dans chaque cas, calculer $\vec{AB} \cdot \vec{AC}$:



ABCD est un carré



Exercice 2 (3,5 pts) : Dans un repère orthonormé, on donne les points $A(-1; 2)$, $B(3; -1)$ et $C(1; 4)$. Calculer, au dixième de degré près, la mesure de l'angle \widehat{BAC} .